

**ДЪРЖАВЕН ЗРЕЛОСТЕН ИЗПИТ ПО**

**ГЕОГРАФИЯ И ИКОНОМИКА**

**20 май 2022 г.**

**ПРОФИЛИРАНА ПОДГОТОВКА**

**ВАРИАНТ 1**

**ЧАСТ 1 (време за работа – 60 минути)**

*Отговорите на задачите от 1. до 21. вкл. отбелязвайте в листа за отговори!*

**1. Как рециклирането допринася за опазване на природните ресурси?**

- А) Намалява замърсяването на въздуха.
- Б) Намалява нивата на шума.
- В) Намалява използването на естествени суровини.
- Г) Намалява замърсяването на почвите.

**2. С какво е свързана информацията в текста:** „С протоколът от Киото, подписан през декември 1997 г., развитите страни и икономиките в преход се ангажират да ограничат и намалят глобалните емисии на парникови газове средно с 5% спрямо нивата от 1990 г.“

- А) зараждане на идеята за устойчиво развитие
- Б) формулиране на принципите за устойчиво развитие
- В) дефиниране на концепцията за устойчиво развитие
- Г) прилагане на индикатори за устойчиво развитие

**3. В някои държави се наблюдава влошена екологична ситуация, в резултат от влияние на фактори извън тяхна територия – трансгранично замърсяване. Кой фактор определя този тип замърсяване?**

- А) общественото развитие на държавата
- Б) съсредоточаването на население в държавата
- В) географските особености на държавата
- Г) стопанското развитие на държавата

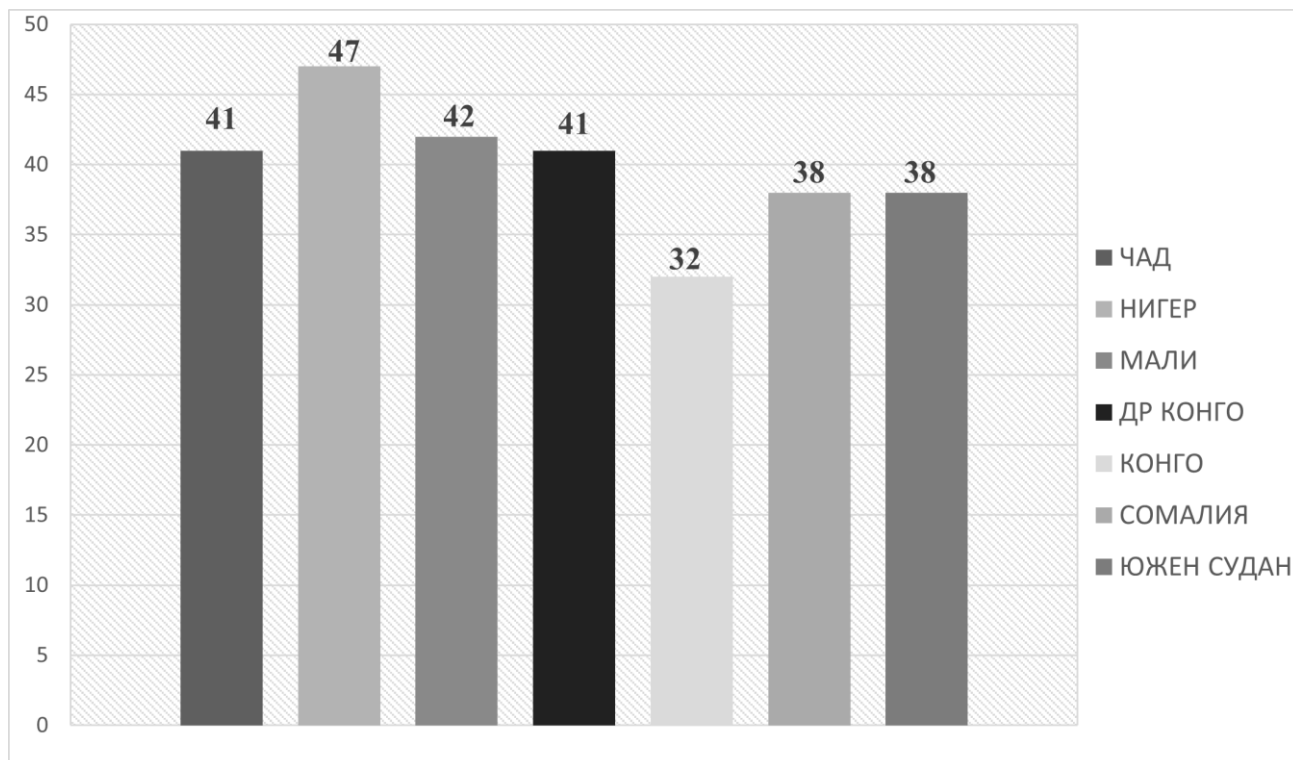
**4. Кой геополитически модел е характерен за развитието на света в периода на Студената война 1946 г. – 1991 г.?**

- А) еднополюсен модел
- Б) двуполюсен модел
- В) многополюсен модел
- Г) триполюсен модел

**5. Анализирайте информацията от диаграмата. Регионалното проявление на коя демографска ситуация илюстрира тя?**

- А) демографска стагнация
- Б) демографски взрив
- В) демографска криза
- Г) демографски преход

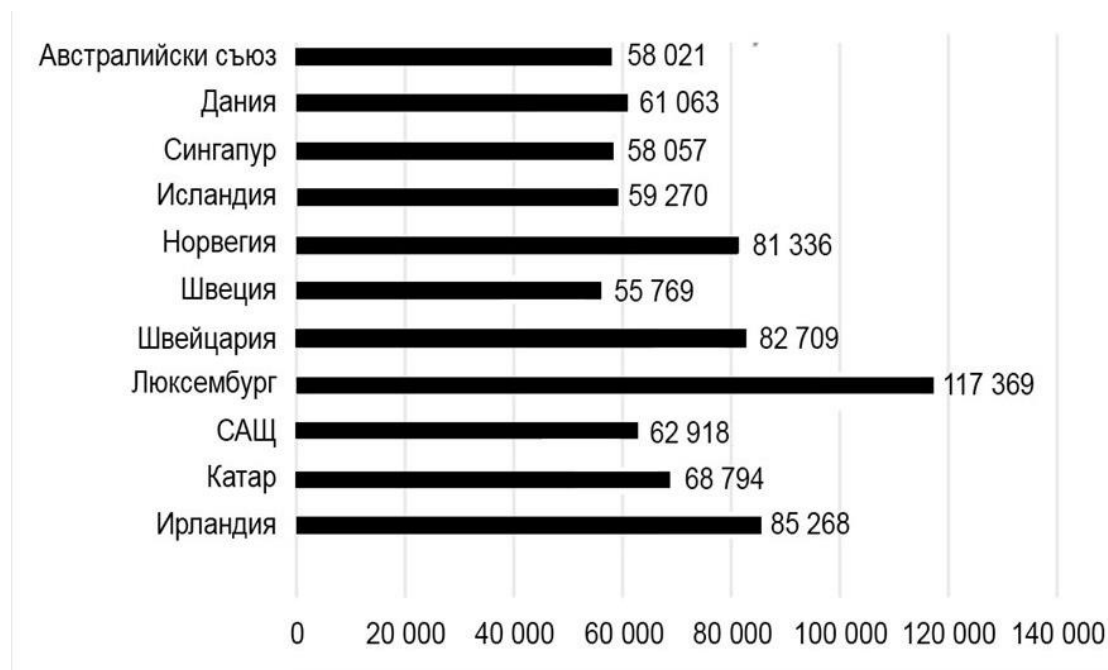
*Раждаемост на страни от Африка за 2020 г. в ‰*



**6. Анализирайте диаграмата и отговорете на въпроса: Къде брутният вътрешен продукт на човек от населението е най-нисък?**

- А) в страна извън ЕС
- Б) в страна, член на ЕС
- В) в страна, член на АСЕАН
- Г) в страна, член на ОПЕК

*Водещи държави според БВП на човек в щатски долари за 2020 г.*



**7. Кое твърдение за интеграцията е вярното?**

- А) Тя е процес на всестранно сближаване между държавите.
- Б) Най-разпространената ѝ форма е политическата интеграция.
- В) Ръководните ѝ принципи са доброволността, взаимната изгода и дискриминацията.
- Г) Чрез нея се задълбочават различията в икономическото развитие на отделните територии.

**8. През 70-те години на XX век се оформя групата на новите индустриални страни. Кои страни са част от тази група?**

- А) САЩ, Япония, Франция
- Б) Полша, Унгария, Румъния
- В) Бразилия, Швейцария, Канада
- Г) Южна Корея, Тайланд, Сингапур

**9. Кое от твърденията за геодемографските процеси в Южна Европа е грешно?**

- А) Най-голям демографски потенциал има Гърция.
- Б) Повечето държави са католически.
- В) Широко разпространени са романските езици.
- Г) В повечето страни естественят прираст е отрицателен.

**10. В коя от групите държави, всички са част от един подрегион на Азия?**

- А) Саудитска Арабия, Оман, Камбоджа
- Б) Иран, Афганистан, Пакистан
- В) Турция, Сирия, Индия
- Г) Монголия, Индонезия, Шри Ланка

**11. Анализирайте информацията в таблицата за страните, членки на ОЧИС за 2018 г.**

Страни	Територия (хил. км <sup>2</sup> )	Население (хил. д)	БВП (млрд. \$)	БВП/ч. (\$)
Азербайджан	86,6	10 767	45,4	17 492
Албания	28,8	2 888	15,2	12 507
Армения	29,8	3 064	12,4	9 456
България	111,0	6 936	64,9	21 687
Грузия	69,7	3 789	16,3	10 747
Гърция	132,0	10 767	219,1	27 737
Молдова	33,7	4 055	11,4	5 661
Румъния	237,5	18 832	239,8	24 508
Русия	17 075,4	144 550	1 630,6	27 834
Сърбия	77,47	8 676	50,6	15 000
Турция	779,4	84 587	776,4	26 893
Украйна	603,7	42 033	124,6	8 713

**Определете вярното твърдение.**

- А) Най-голяма по брой населени е страната с най-ниски стойности на БВП на човек.
- Б) Най-малката по площ страна е с най-ниски стойности на БВП на човек.
- В) Страната с най-ниски стойности на БВП за 2018 г. е и най-слабо населената.
- Г) Страната с най-високи стойности на БВП за 2018 г. е най-голямата по площ.

**12. Доказателство за кое от твърденията се открива в таблицата?**

- А) Подрегион Централна Азия включва слаборазвити и средно развити страни.
- Б) В Централна Азия преобладава селското население.
- В) Характерно за държавите от Централна Азия е високата демографска плътност.
- Г) Естественят прираст в страните от Централна Азия има положителни стойности.

Държава	Площ (km <sup>2</sup> )	Брой население	БВП/ч. (в \$), 2019 г.
Казахстан	2 717 000	18 745 000	9 672
Туркменистан	488 000	5 411 000	8 991
Узбекистан	447 000	30 024 000	2 095
Таджикистан	143 000	8 605 000	911
Киргизстан	199 000	5 849 000	1 337

**13. Кое от твърденията, отнасящи се за геополитическото положение, можем да оценим като неблагоприятно?**

- А) България е разположена в зоната на взаимодействие между Изтока и Запада.
- Б) Страната ни служи като „държава-врата“ по отношение на ЕС.
- В) България е периферно разположена в европейското икономическо пространство.
- Г) Гражданите на страната ни имат достъп до единния европейски пазар.

**14. В България се наблюдава трайна тенденция на застаряване на населението. Какви са очакваните социални последици от това?**

- А) засилване на ежедневните трудови миграции
- Б) понижаване на мобилността на работната сила в страната
- В) засилване натиска върху пенсионната система
- Г) утвърждаване на нов семеен модел

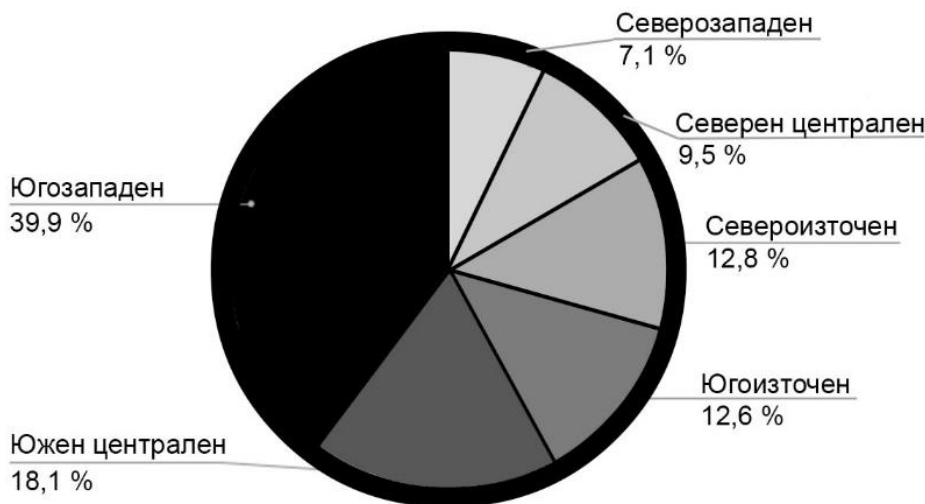
**15. Европейската комисия одобри увеличаване до 60% на максималната помощ за девет области, поради голямото обезлюдяване в тях, а именно – Видинска, Смолянска, Плевенска, Габровска, Търговищка, Врачанска, Ямболска, Ловешка и Монтана. В кой район всички области ще могат да се възползват от увеличаването на максималния размер за регионална помощ, отпускана от ЕС, за периода 2022-2027 г.?**

- А) Южен централен район
- Б) Югоизточен район
- В) Северен централен район
- Г) Северозападен район

**16. Като използвате диаграмата, определете кои райони на България ще усвоят по-големи инвестиции по приоритетно направление „повишаване на конкурентоспособността на малките и средните предприятия“.**

- А) Югозападен и Северен централен
- Б) Североизточен и Южен централен
- В) Североизточен и Северозападен
- Г) Югозападен и Южен централен

*Относителен дял на предприятията със заети от 10 до 49 души 2020 г.*



**17. Анализирайте таблицата.**

*Безработицата в България през 2019 г. и 2020 г.*

Район	Коефициент на безработица в % 2019 г.	Коефициент на безработица в % 2020 г.
Северозападен	10,8	13
Северен централен	5,1	5,7
Североизточен	5,9	6,1
Югоизточен	4,0	4,6
Южен централен	3,0	3,4
Югозападен	2,3	3,6

**Отбележете вярното твърдение:**

- А) Северозападен и Северен централен район са с еднакви стойности през периода.
- Б) Югоизточен и Югозападен район не променят своите стойности през периода.
- В) Североизточен район е с по-висока безработица от Югоизточен район през периода.
- Г) Югоизточен район е с по-ниска безработица от Южен централен район през периода.

**18. Планинските райони са част от проблемните територии в България. Отличават се със слабо икономическо развитие и ниска урбанизираност. Коя от икономическите дейности ще допринесе за развитието на този тип райони?**

- А) развитие на зеленчукопроизводството и лозарството
- Б) развитие на туризма, основаващ се на природни ресурси
- В) изграждане на големи индустриални зони
- Г) развитие на високите технологии и научноизследователска дейност

**19. Вие сте кмет на средно голям град, във въздуха на който се отчитат завишени стойности на фини прахови частици. Коя от посочените мерки ще има най-голям ефект за подобряване на екологичната обстановка през зимния период?**

- А) промяна в маршрутите на градския транспорт
- Б) намаляване на транспортния трафик в централната част
- В) увеличаване обхвата на зелените площи
- Г) газифициране на града

**20. Измерване на наклон на склон, височина на сечение и други операции за подробно изследване на територията могат да се правят чрез:**

- А) тематични карти
- Б) туристически карти
- В) общогеографски карти
- Г) топографски карти

**21. Използвайте данните от таблицата за изплатени суми по оперативни европейски програми на човек от населението към 15 юни 2021 г. и обозначете на картата общо десет области, от които:**

**А) с цифров код 1, административните области със стойности на показателя под 1 500 лв.**

**Б) с цифров код 2, административните области със стойност на показателя от 2 500 до 3 600**

<b>Статистически единици област –NUTS 3</b>	<b>Сума (лв.)</b>	<b>Статистически единици област-NUTS 3</b>	<b>Сума (лв.)</b>
Благоевградска	3422	Плевенска	2120
Бургаска	2090	Пловдивска	1674
Варненска	1521	Разградска	1739
Великотърновска	1760	Русенска	1914
Видинска	2228	Силистренска	1688
Врачанска	2825	Сливенска	1168
Габровска	3510	Смолянска	2517
Добрич	1525	София-град	3676
Кърджалийска	1516	Софийска	2159
Кюстендилска	1272	Старозагорска	1783
Ловешка	2328	Търговищка	1321
Монтана	2439	Хасковска	1435
Пазарджишка	1429	Шуменска	1690
Пернишка	1194	Ямболска	2068



**ДЪРЖАВЕН ЗРЕЛОСТЕН ИЗПИТ ПО**

**ГЕОГРАФИЯ И ИКОНОМИКА**

**20 май 2022 г.**

**ПРОФИЛИРАНА ПОДГОТОВКА**

**ВАРИАНТ 1**

**ЧАСТ 2 (време за работа – 180 минути)**

*Отговорите на задачи от 22. до 41. вкл. запишете в листа за отговори!*

**22. В листа за отговори запишете глобалния проблем, който е резултат от влиянието на факторите:**

- бързо нарастване на населението
- икономическа изостаналост на слабо развитите страни
- недостатъчно производство
- неравномерно разпределение на храни

**23. Анализирайте текста и запишете три примера за приложение на концепцията за устойчиво развитие.**

„В изпълнение на концепцията за устойчиво развитие, много страни и фирми предприемат различни инициативи. Японското правителство е взело решение до 2050 г. да се премине изцяло към производство само на електромобили. В град Аспен, щата Колорадо, местното енергийно дружество изгражда нова сграда с площ от 53 000 квадратни метра, която ще се захранва изцяло с електричество от слънчева енергия. Английска фирма е синтезирала нова пластмаса от растителни протеини, която може да замени торбичките и опаковките за еднократна употреба, произведени от изкопаеми горива.“

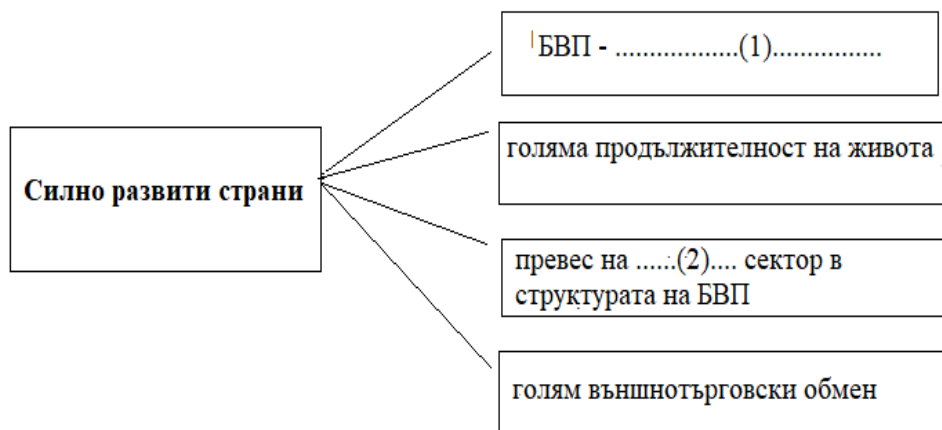
**24. В листа за отговори към буквения код на преобладаващата религията съотнесете държавата представител.**

**Държави:** Ирак, Монголия, Албания, Словения

**А.** католицизъм

**Б.** будизъм

25. Допълнете пропуснатото в схемата, като в листа за отговори срещу цифри 1 и 2 запишете съответните особености на силно развитите страни.

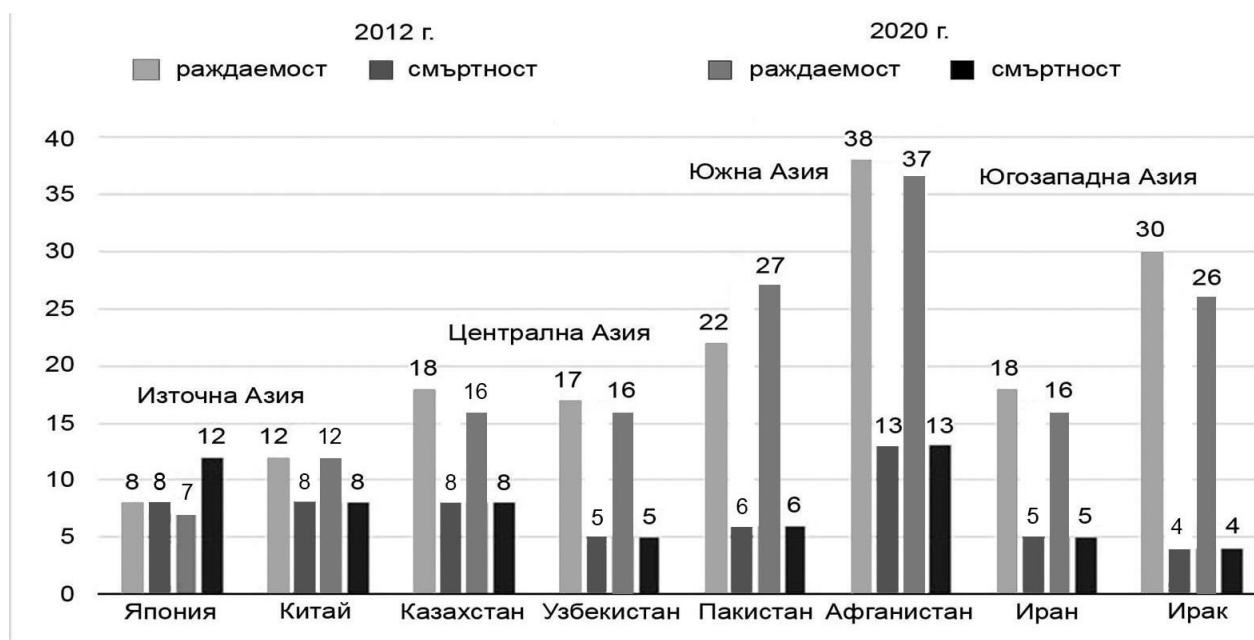


26. Използвайте диаграмата и решете задачите:

А) Определете региона с най-ниска раждаемост през 2012 и 2020 г.

Б) Определете региона с най-висок естествен прираст през 2020 г.

Раждаемост и смъртност в избрани страни от Азия – 2012 г. и 2020 г.



27. Анализирате данните в таблицата. Групирайте страните според индекс на човешко развитие (ИЧР). В листа за отговори срещу цифра от 1 до 3 вкл. запишете страните в правилната група.

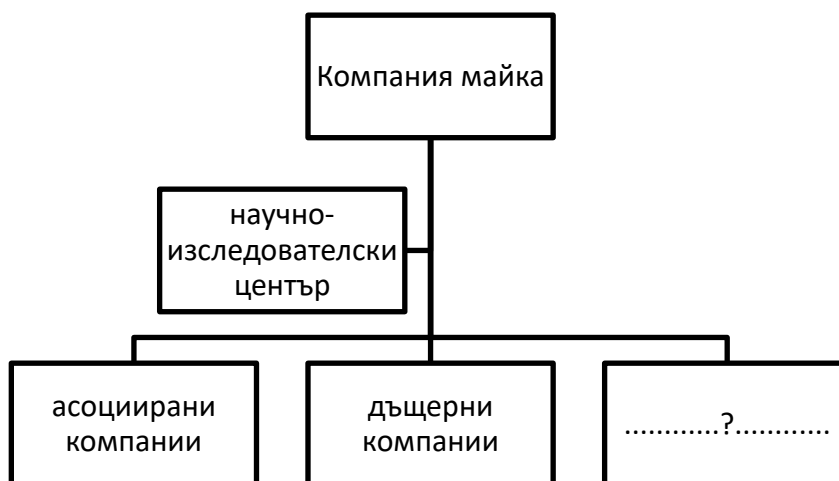
1. Ниско ( под 0,5) .....
2. Високо ( 0,8 – 0,9) .....
3. Много високо ( над 0,9) .....

Страни според ИЧР (2017 г.)			
Страна	ИЧР	Страна	ИЧР
Сингапур	0,933	Нигер	0,386
Китай	0,750	Дания	0,936
Либерия	0,481	Беларус	0,819
Грузия	0,799	Кипър	0,878

28. Прочетете текста. В листа за отговори срещу съответната цифра допълнете липсващите имена.

Най-развитият от нововъзникващите пазари е този на .....1..... . Създаден е през 2006 г. В него членуват Бразилия, Русия, .....2....., Китай и .....3..... .

29. В листа за отговори запишете липсващото звено в организационно-управленската структура на ТНК?



**30. Анализирайте информацията в таблицата.**

Страна	Износ	Внос	1. ....	2. ....
Китай	2487	2136	4623	351
САЩ	1666	2612	4278	-946
Япония	738	748	1486	-10
Канада	450	470	920	-20

**В листа за отговори срещу съответната цифра запишете липсващите показатели.**

**31. Анализирайте текста. В листа за отговори запишете трите приоритетни дейности заложи в Всеобхватния икономически и инвестиционен план за Западните Балкани за 2021 – 2027 г. на Европейската комисия.** „Планира да се изгради автомобилен коридор Север-Юг, свързващ столиците на Централна Европа, през Сараево, с хърватското пристанище Плоче, както и жп коридор №4 между Белград, Подгорица и черногорското пристанище Бар. Приоритетно значение се отдава на Йонийско-Адриатическия газопровод, прокаран по крайбрежието, тъй като той следва да диверсифицира значително източниците на газ, доставян в Западните Балкани и извън тях. Предвиждат се допълнителни инвестиции за ветърни паркове и слънчеви електроцентрали в Северна Македония.“

**32. Анализирайте картата на Азия. В листа за отговори запишете:**

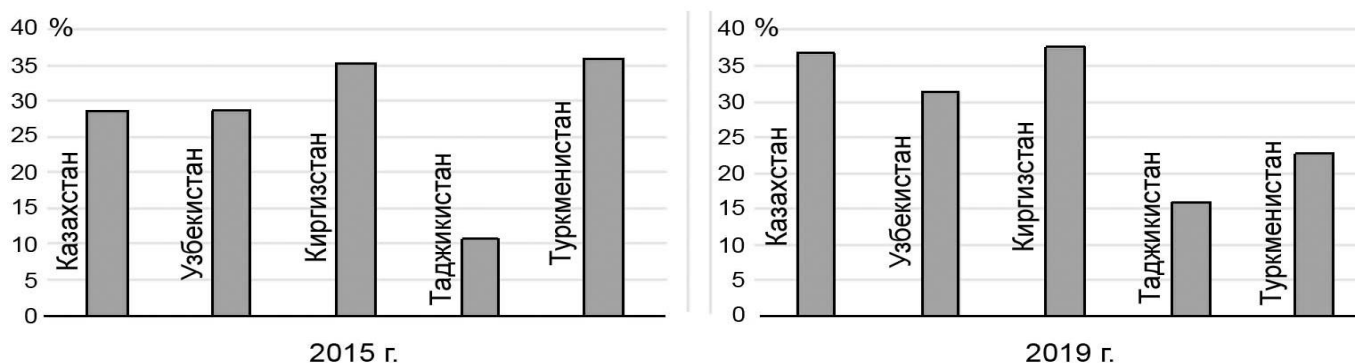
**А) Коя е общата характеристика в географското положение на страните от Централна Азия?**

**Б) Върху коя стопанска дейност оказва негативно влияние това географско положение?**



**33. Съпоставете стълбчестите диаграми и определете коя страна е намалила износа си през 2019 г.**

*Относителен дял от БВП на изнесените стоки и услуги в Централна Азия*

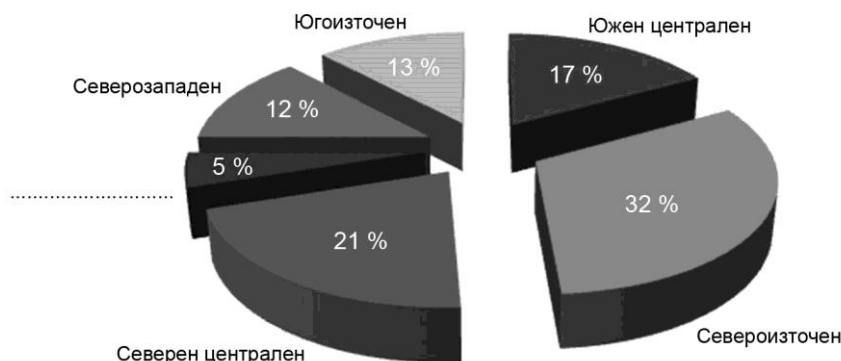


**34. Използвайте диаграмата за разпределението на обработваема земя по райони през 2021 г., за да решите задачите:**

**А) Запишете кой район притежава най-малък дял от обработваема земя.**

**Б) Запишете две причини, които определят размера на обработваемата земя в района.**

РАЗПРЕДЕЛЕНИЕ НА ОБРАБОТВАЕМИТЕ ЗЕМИ ПО РАЙОНИ НА ПЛАНИРАНЕ 2021 (%)



**35. Използвайте текста и предложете три решения за преодоляване на проблемите в Южен централен район:** „Южен централен район се характеризира с вътрешнорегионални различия в посока център-периферия. За тяхното преодоляване е необходимо в бъдеще да се заложи както на икономическото развитие, базирано на машиностроенето и на добива и преработката на руди на цветните метали, така и на подобряване на транспортната инфраструктура в периферните южни части на района. Туризмът (планински, селски, културен, екологичен) трябва да бъде един от основните двигатели на регионалната икономика и водеща перспектива за цялостното развитие на района. Нужно е да се изградят индустриални зони (Кричим, Кърджали) и научно-технологичен парк (Смолян).“

**36. В листа за отговори запишете за кой район се отнасят характеристиките:**

- Съществува риск от миграционен натиск.
- Сериозни екологични проблеми свързани с развитието на енергетиката.

**37. Местното самоуправление в България се осъществява чрез общинските органи – кмет и общински съвет. Анализирайте текста, в който са изброени част от правомощията им. Запишете цифровия код на тези от тях, които се отнасят за кмета.**

1. Определя размера на местните данъци и такси.
2. Организира изпълнението на общинския бюджет.
3. Одобрява структурата на общинската администрация.
4. Насочва и координира дейността на специализираните изпълнителни органи
5. Представява общината пред физически и юридически лица и пред съда.
6. Поддържа връзка с политическите партии, обществените организации и движения.

**38. Прочетете текста.** „Новият граничен контролно-пропускателен пункт Рудозем-Ксанти се осъществява благодарение на оперативна програма „Interreg V-2 Гърция-България“. Пускането в експлоатация на пункта ще допринесе за развитието на туризма, търговията, ще подобри инфраструктурата в трансграничния регион. Улесненото пресичане на границата ще намали регионалните различия и ще улесни свързването му с трансевропейската транспортна мрежа на север и запад.“

**В листа за отговори запишете: Името на европейският фонд, чрез който се финансира описаният проект?**

**39. Използвайте данните от таблицата и в листа за отговори запишете три сериозни социални и демографски проблеми в Северозападния район.**

*Основни показатели по райони на планиране 2020 г.*

Район	Коефициент на заетост %	Равнище на безработица %	БВП/ч лв.	Естествен прираст ‰	Средна годишна заплата-лв.
Средно за страната	68,5	5,1	17 299	-9,5	16 687
Северозападен район	58,7	13	11 327	-15,5	13 121
Северен централен район	68,3	5,7	11 667	-13,9	13 330
Североизточен район	66,7	6,1	13 110	-8,7	14 356
Югоизточен район	67,1	4,6	12 177	-8,2	13 842
Южен централен район	67,2	3,4	12 505	-9,6	13 388
Югозападен район	73,8	3,6	29 022	-6,6	20 388

**40. В листа за отговори запишете името на туристическият район в България, чиято основна специализация е в планинския и религиозния туризъм.**

**41. Анализирайте текста. Представете аргументиран отговор на географския въпрос: *Защо Бургас може да бъде определен като „умен град“?***

*Формулирайте вашия отговор в текст до 300 думи. Използвайте термини, които са характерни за географската наука. Спазвайте следната последователност:*

- 1. Формулирайте теза*
- 2. Приведете аргументи, подкрепящи тезата, подредени в логическа последователност (аргументативна редица).*
- 3. Направете изводи*

\*\*\*

„Умният град е този, който използва потенциала на технологиите и иновациите, заедно с други ресурси, за да насърчава по-ефективно устойчивото развитие и в крайна сметка да подобри качеството на живот на своите граждани.

Интернет на нещата (IoT), мобилни приложения, индустрия 4.0 успяват да подобрят ефективността на градовете. В този смисъл градът може да управлява технология за подобряване на живота на хората и по-конкретно за постигане на ползи като:

- Допринася за подобряване на околната среда.
- Спестява разходи за своите граждани.
- Оптимизира обществените услуги.
- Подобрява прозрачността при управлението.
- Подобрява комуникацията с гражданите.

За да може да се счита за умен град, той трябва да отговаря на следните условия:

- Устойчиво и хармонично икономическо, социално и екологично развитие.
- Оптимално управление на природните ресурси чрез гражданско участие.
- Граждани и институции, отдадени на града.
- Инфраструктура и институции, оборудвани с технологични решения, за да улеснят живота на гражданите.“

\*\*\*

„Вече в няколко града в страната се реализират инициативи за трансформация към умен град. Най-ярък пример е град Бургас.

Една от областите на интелектуално активизиране на града е интелигентно образование – влагане на инвестиции в дигиталните умения, подготовка за професиите на бъдещето, развитие на креативност, което впоследствие ще създаде качествен човешки капитал. В тази връзка стартира проект „Първокласно начало“.

В материално-техническото оборудване на класните стаи са заложили интерактивни дъски, таблети за децата и специално разработен софтуер.

Концепцията на Бургас в област интелигентна мобилност се свързва с реализиране на няколко проекта. Всички стари автобуси в града са подменени с нови от най-висок екологичен клас и оборудвани с постоянно видеонаблюдение. Обособена е „бърза автобусна линия“ бус лента с приоритетно преминаване през ключовите кръстовища, което се осигурява от отделна сигнализация. Създадена е система за велосипеди под наем, както и система за интелигентно паркиране в централната градска част. За тази цел под асфалтовите настилки са инсталирани датчици, които чрез внедрените сензори подават информация в реално време за това дали има паркиран автомобил на определеното паркомясто.

Инвестирането на иновации за подобряване на градската среда, е основен приоритет на Бургас. Един от първите проекти в тази област е създаването на „Умна улица“. В уличните стълбове са инсталирани портове за зареждане на мобилни



устройства, планети и др., наличен е безплатен Wi Fi, има вградени камери и сензори, които следят нивото на шум, замърсяването на въздуха, температурата и влажността на въздуха.

В Бургас активно се подпомагат малки и средни предприятия, стартап технологични компании. Развитието на технологиите и начинът, по който ще се предоставят услуги за населението ще осигурят конкурентоспособността и възможностите да се поддържа устойчиво развитие във времето и хармоничен баланс с околната среда.“

**ДЪРЖАВЕН ЗРЕЛОСТЕН ИЗПИТ ПО  
ГЕОГРАФИЯ И ИКОНОМИКА**

**20 май 2022**

**ПРОФИЛИРАНА ПОДГОТОВКА**

**ВАРИАНТ № 1**

**Ключ с верните отговори**

<b>Въпрос №</b>	<b>Верен отговор</b>	<b>Брой точки</b>
<b>1.</b>	<b>В</b>	<b>1 т.</b>
<b>2.</b>	<b>Г</b>	<b>1 т.</b>
<b>3.</b>	<b>В</b>	<b>1 т.</b>
<b>4.</b>	<b>Б</b>	<b>1 т.</b>
<b>5.</b>	<b>Б</b>	<b>1 т.</b>
<b>6.</b>	<b>Б</b>	<b>1 т.</b>
<b>7.</b>	<b>А</b>	<b>1 т.</b>
<b>8.</b>	<b>Г</b>	<b>1 т.</b>
<b>9.</b>	<b>А</b>	<b>1 т.</b>
<b>10.</b>	<b>Б</b>	<b>1 т.</b>
<b>11.</b>	<b>Г</b>	<b>1 т.</b>
<b>12.</b>	<b>А</b>	<b>1 т.</b>
<b>13.</b>	<b>В</b>	<b>1 т.</b>
<b>14.</b>	<b>В</b>	<b>1 т.</b>
<b>15.</b>	<b>Г</b>	<b>1 т.</b>
<b>16.</b>	<b>Г</b>	<b>1 т.</b>
<b>17.</b>	<b>В</b>	<b>1 т.</b>
<b>18.</b>	<b>Б</b>	<b>1 т.</b>
<b>19.</b>	<b>Г</b>	<b>1 т.</b>
<b>20.</b>	<b>Г</b>	<b>1 т.</b>

- 21. А)** обозначени на картата с код 1: Кюстендилска област, Пазарджишка област, Пернишка област, Сливенска област, Търговищка област, Хасковска област – **6 x 1 т.**
- Б)** обозначени на картата с код 2: Благоевградска област, Врачанска област, Габровска област, Смолянска област – **4 x 1 т.**
- 22.** продоволствен проблем – **2 т.**
- 23.** Производство на електромобили – **1 т.**
- Производство на електроенергия от слънчеви инсталации/ фотоволтаични инсталации/  
производство на „зелена енергия“ – **1 т.**
- Намаляване използването на изкопаеми горива/нефт/енергийни ресурси – **1 т.**
- 24. А.** католицизъм – Словения – **1 т.**
- Б.** будизъм – Монголия – **1 т.**
- 25. 1.** БВП над 15 000 щатски долара на човек – **1 т.**
- 2.** третичният сектор – **1 т.**
- 26. А)** Източна Азия – **1 т.**
- Б)** Южна Азия – **2 т.**
- 27. 1.** Либерия и Нигер – **1 т.**
- 2.** Беларус и Кипър – **1 т.**
- 3.** Сингапур и Дания – **1 т.**
- 28.** БРИКС – **1 т.**
- Индия – **1 т.**
- Република Южна Африка – **1 т.**
- 29.** филиали – **2 т.**
- 30. 1.** Търговски/ външнотърговски обмен – **2 т.**
- 2.** Търговски/ външнотърговски баланс (салдо) – **2 т.**
- 31.** автомобилен транспорт/ транспорт – **1 т.**
- газопровод/ газопреносна система – **1 т.**
- енергетика/ електропроизводство. – **1 т.**
- 32.** Вътрешноконтинентални страни/ липса на морски излаз – **1 т.**
- Външно-търговски/ търговско-икономически връзки – **1 т.**
- 33.** Туркменистан – **2 т.**

- 34. 1.** Югозападен район – **1 т.**
- 2.** релефът е планинско-котловинен – **1 т.**
- силно развита селищна мрежа/ активните процеси на урбанизация довеждат до намаляване на обработваемата земя – **1 т.**
- 35. 1.** Изграждане на индустриални зони в южните части на района/ Развитие на добивна и преработваща промишленост на цветни метали – **1 т.**
- 2.** Изграждане на транспортна инфраструктура. – **1 т.**
- 3.** Развитие на различни видове туризъм. – **1 т.**
- 36.** Югоизточен район – **2 т.**
- 37. 2.** Организира изпълнението на общинския бюджет – **1 т.**
- 4.** Насочва и координира дейността на специализираните изпълнителни органи – **1 т.**
- 5.** Представява общината пред физически и юридически лица и пред съда – **1 т.**
- 6.** Поддържа връзка с политическите партии, обществените организации и движения – **1 т.**
- 38.** Европейски фонд за регионално развитие – **2 т.**
- 39. 1.** Районът има най- високо ниво на безработица – **1 т.**
- 2.** Коефициентът на заетост е най- нисък – **1 т.**
- 3.** Най-нисък естествен прираст./ Най-високи отрицателни стойности на естествения прираст. – **1 т.**
- 40.** Рила-Пирин – **2 т.**
- 41.** Отговор на географски въпрос:
- 1.** Демонстрира умения за синтез на информация при формулиране на тезата – **4 т.**
- 2.** Привежда аргументи (основани на информацията от ресурсите) в подкрепа на тезата – **8 т.**
- 3.** Формулира изводи. – **2 т.**
- 4.** Изложението съответства на въпроса – **3 т.**
- 5.** Използва точен географски език. – **3 т.**