


ДЪРЖАВЕН ЗРЕЛОСТЕН ИЗПИТ ПО ИСТОРИЯ И ЦИВИЛИЗАЦИЯ

2 септември 2008 г. – Вариант 2

УВАЖАЕМИ ЗРЕЛОСТНИЦИ,


Тестът съдържа **20 задачи** по история и цивилизация и задача за отговор на исторически въпрос. 20-те задачи са **два вида**:


- задачи с избираем отговор;
- задачи със свободен отговор.

Първите 10 задачи (от 1. до 10. включително) в теста са от затворен тип с четири възможни отговора, обозначени с главни букви от А до Г, от които само един е верен. Отговорите на тези задачи отбелязвайте със син цвят на химикалката в **листа за отговори**, а не върху тестовата книжка. За да отбележите верния отговор, зачертайте със знака  кръгчето с буквата на съответния отговор. Например:

(А) ~~(Б)~~ (В) (Г)

Ако след това прецените, че първоначалният отговор не е верен и искате да го поправите, запълнете кръгчето с грешния отговор и зачертайте буквата на друг отговор, който приемате за верен. Например:

(А)  ~~(В)~~ (Г)

За всяка задача трябва да е отбелязан не повече от един действителен отговор. Като действителен отговор на съответната задача се приема само този, чиято буква е зачертана със знака  .

Отговорите на задачите със свободен отговор (от 11. до 20. включително) се отбелязват в предоставения **свитък за свободните отговори**. Четете внимателно инструкциите! Срещу номера и главната буква на съответната задача/на съответното подусловие напишете верния отговор.

Задачата за **отговор на исторически въпрос** напишете в **свитъка за свободните отговори** на предвиденото за това място.

ПОЖЕЛАВАМЕ ВИ УСПЕШНА РАБОТА!

Отговорите на задачите от 1. до 10. вкл. отбелязвайте в листа за отговори!

1. Първите български владетели носели титлата:

- А) княз
- Б) хан
- В) цар
- Г) василевс

2. В кой от посочените варианти старите български столици са в хронологична последователност:

- А) Плиска, Охрид, Преслав, Търново
- Б) Плиска, Преслав, Охрид, Търново
- В) Преслав, Плиска, Търново, Охрид
- Г) Плиска, Търново, Преслав, Охрид

3. Славянската писменост, създадена от Кирил и Методий, е известна като:

- А) глаголица
- Б) кирилица
- В) черти и резки
- Г) димотическо писмо

4. Първото българско царство просъществувало в периода:

- А) от 865 г. до 1018 г.
- Б) от 681 г. до 1018 г.
- В) от 886 г. до 1185 г.
- Г) от 681 г. до 1185 г.

5. Българската патриаршия е призната официално на църковен събор през:

- А) 1186 г.
- Б) 1204 г.
- В) 1230 г.
- Г) 1235 г.

6. През 1862 г. в Белград Георги Стойков Раковски:

- А) издава „Горски пътник”
- Б) организира Първа българска легия
- В) съставя първия си План за освобождение
- Г) издава „Дунавски лебед”

7. Първото девическо училище е създадено от Анастасия Димитрова през 1840 г. в:

- А) Копривщица
- Б) Пловдив
- В) Търново
- Г) Плевен

8. Първите политически партии в Княжество България са:

- А) Либералната и Демократическата
- Б) Либералната и Консервативната
- В) Консервативната и Народната
- Г) Либералната и Радикалната

9. Вторият български монарх след Освобождението е:

- А) Александър Батенберг
- Б) Фердинад I
- В) Борис III
- Г) Симеон II

10. На 23 август 1939 г. е подписан т.нар. пакт „Рибентроп-Молотов”, който е договор за ненападение между:

- А) Германия и Великобритания
- Б) Германия и СССР
- В) Япония и Германия
- Г) Германия и Италия

Отговорите на задачите от 11. до 20. вкл. записвайте в свитъка за свободните отговори!

11. Попълнете таблицата в свитъка за свободните отговори, като подредите в хронологическа последователност четири събития, свързани с национално-освободителното движение на българите през Възраждането (XVIII – XIX в.).

12. Срещу буквите в свитъка за свободните отговори запишете имената на четирима български владетели от периода на Второто българско царство.

13. Срещу съответната буква в свитъка за свободните отговори отбележете века, с който се свързва посоченото събитие или факт:

- А) създаването на Дунавска България
- Б) управлението на хан Крум
- В) въстанието на Петър и Асен и възстановяването на българската държава
- Г) създаването на НАТО

14. Срещу съответната буква в свитъка за свободните отговори напишете името на историческата личност, свързана с посоченото събитие или факт:

- А) български владетел, спрял арабското нашествие през 717 г. при Константинопол
- Б) деец на просветното движение през Възраждането, автор на „Рибен буквар”
- В) български министър-председател в периода 1887 – 1894 г., известен като „Българският Бисмарк”
- Г) политически деец, с чието име се свързва „перестройката” в Съветския съюз

15. Срещу съответната буква в свитъка за свободните отговори напишете понятието (базилика, кавхан, хегемония, плебисцит) което съответства на всяко от посочените определения

- А) широко разпространен архитектурен тип църковна сграда с правоъгълна форма и два реда колони; в Античността – обществена сграда
- Б) прабългарска титла, която носел вторият по значение човек в държавата след хана
- В) водачество, ръководна роля, надмощие в различните сфери на обществения живот и в геополитически аспект
- Г) всеобщо гласуване за решаване на важен държавен въпрос; референдум

16. Срещу съответната буква в свитъка за свободните отговори обяснете съдържанието на посоченото понятие:

- А) шериат
- Б) монархия
- В) коалиция
- Г) реформа

17. За всяко от изброените понятия посочете конкретен пример от българската или от съвременната световна история, който съответства на неговото съдържание, като в листа за свободни отговори срещу съответната буква запишете примера.

- А) екзарх
- Б) освободителна война
- В) революция
- Г) култ към личността

18. В свитъка за свободните отговори на посоченото за това място напишете понятията, пропуснати в следващия текст:

„[...] Чл.1. България се създава в самостоятелно трибутарно под върховната власт на Н. В. султана. То ще има християнско правителство и народна войска(милиция).

„[...] Чл. 13. На юг от Балкана се образува една провинция, която взема името и остава под пряката политическа и военна власт на Н. В. султана, при условия на пълна административна автономия. Тя ще има генерал-губернатор християнин. [...] ”

Из: Берлински договор, 1 (13) юли 1878 г.

19. В свитъка за свободните отговори на посоченото за това място напишете названието и на документа, откъс от който е следващият текст, като посочите кой и кога (ден, месец, година) го написва:

„Братя! Вчера пристигна в село Неджеб ага, из Пловдив, който поиска да затвори няколко души заедно с мене. Като бях известен за вашето решение, станало в Оборицкото събрание, повиках няколко души юнаци и след като се въоръжихме, отправихме се към конака, който нападнахме и убихме мюдюра, с няколко заптиш... Сега, когато ви пиша това писмо, знамето се развява пред конака, пушките гърмят, придружени от ека на черковните камбани, и юнаците се целуват един други по улиците!... Ако вие,братя, сте били истински патриоти и апостоли на свободата, то последвайте нашия пример и в Панагюрище...”

20. Разгледайте внимателно картата и в свитъка за свободните отговори поставете заглавието ѝ.



В свитъка за свободните отговори напишете в обем до 3 страници отговор на историческия въпрос:

Как българите постигат своята църковна независимост през Възраждането?

При отговора вземете под внимание следните въпроси:

1. Какви са отношенията между българите и Цариградската патриаршия след 1396 г.?
2. Какви действия предприемат българите до Кримската война?
3. Кои са основните моменти от движението за независима църква след Кримската война?
4. Кога и как е учредена Българската екзархия?
5. Какво е значението на извоюваната църковна независимост за българите?